

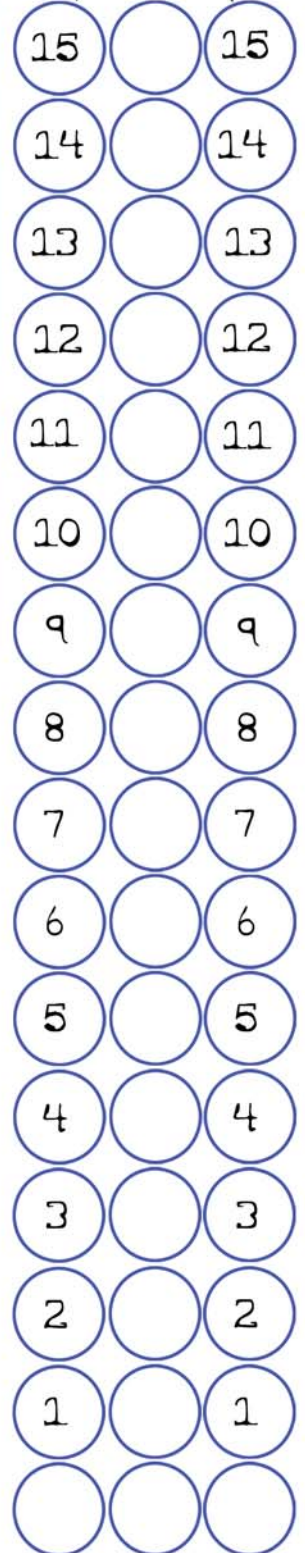
لئده (سى ھزار) دینار

بگه پیره دود

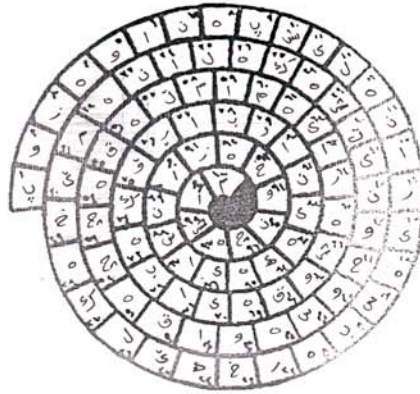
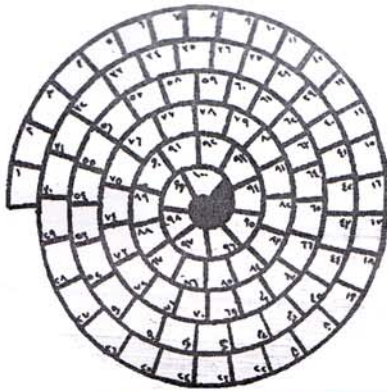
(۹۷-۱۰۰) مۆنى سهر قرتاۋ. (۹۶-۹۸) ئەۋىش
گران ئەبىت. (۹۳-۹۵) برازاي خال. (۸۷-۹۲)
ھاۋپى ئەرك. (۸۴-۸۶) پارچه گۆشت. (۸۱-۸۲)
چەقەلى پى دروست ئەكەن. (۷۴-۸۰) بەژن
وبالا. (۷۲-۷۳) سەرو قاجى شاھۆ. (۶۹-۷۱)
خىمەى بى كۆتايى. (۶۲-۶۸) ياخوا بۆت
دەرچىت. (۶۰-۶۲) ناخۆش ھەيەتى. (۵۵-۵۹)
لەگەرەك بچوۋكترە. (۵۱-۵۴) ئەدەۋاتى ئىحتىياتى
چەنەۋەر. (۴۷-۵۰) خەتى بى كۆتايى. (۴۴-۴۶)
لەكۆمارا بىدۆزەرەۋە. (۴۱-۴۲) سەۋا
ھەيەتى. (۳۸-۴۰) نەكە. (۳۴-۳۷) برازاي
كەمچە. (۳۱-۳۳) خزمى گىپ. (۲۷-۳۰) پارەى
جاران. (۲۴-۲۶) كراسە و ئەۋسەرى ونە.
(۱۹-۲۳) حزىكى قەۋمى بوۋ. (۱۳-۱۸) شىنى
بەغزىك بۆ ئەۋە. (۹-۱۲) محمد لە سلىمانى.
(۴-۸) خزمى نامووس. (۱-۳) خەفەت

برۆ

(۶-۱) مەركەز شورتە. (۱۱-۷) پىش
جوعمەيە. (۱۶-۱۲) مەيانى لەگەلنەبىت
باشە. (۱۸-۱۷) ئەمسەرئەۋسەرى ھەلەبجە.
(۲۲-۱۹) كۆسارى دواپراۋ. (۲۶-۰۲۳) باخچەكەى
مىستەر. (۳۰-۲۷) لەنەعنايا زۆرە. (۳۱-۲۲) ھاۋ
خەباتى گەنم. (۳۹-۳۲) ياپراخەكەى
خۆشە. (۴۳-۴۰) بوۋك خۆشى ناۋىت. (۴۹-۴۴)
لەمەلئەند بچوۋكترە. (۵۴-۵۰) گۆلە و
نەكراۋەتەۋە. (۵۷-۵۵) ئاشناى بزمار.
(۵۹-۵۸) نۆكى سەرىپراۋ. (۶۵-۶۰) دراۋسىنى
تەكپە. (۶۸-۶۶) لەبىتوينا زۆرە. (۷۳-۶۹) نەترشە
ۋ نەشىرىن. (۷۷-۷۴) فاتەى سەرلى شىۋاۋ.
(۸۰-۷۸) ھەمو تەلاقىك ھەيەتى. (۸۱-۸۶)
برنجەۋ باقى نەبوۋ. (۸۹-۸۷) ناۋى فارس.
(۹۴-۹۰) برازنى لەچك. (۹۷-۹۵) ئەۋەى ھەمامى
سورەت مەشھورىۋو. (۹۸-۱۰۰) قۆلەكەى مەلەى
خۆشە



براۋەى ژمارەى يئشوۋ داياكە ھىمە مەھمەد



بورجە كومان كەل و پەلى تيانى يە

پرى بگەرەۋە 15 ھەزار دینار ۋەرگەرە

براۋەكالى ژمارەى يئشوۋ

شئۆ ھەلى سالخ

بژۆبە سۋارە ھەزىز

نەبەرد كارۋان ھوسمان

$10 + 3 + 12 =$ بى حاكم نابى

$13 + 9 + 7 =$ دۆمىنەش ھەيەتى

$11 + 14 + 10 =$ قوۋەت

$1 + 2 =$ ھەنجىرى جنوب

$5 + 2 + 7 + 4 = \dots$ ۋەرىۋان ئەمدىۋاۋ دىۋە